












На поле с числами спрятались примеры на умножение:
по вертикали и горизонтали. Сможешь их отыскать?
За каждый найденный пример закрась медаль.
Постарайся заработать все медали.

Пример

12 = 2 × 6	8		
4 18 5	2 × 5		
3 × 7 = 21	10		
9 2 8			




4	6	24	5	2			
7	3	9	7	6			
8	5	6	35	12			
56	15	5	7	30			
3	4	14	4	8			

Сколько гвоздей понадобится, чтобы построить
каждый участок забора?

Пример:



3 × 2 = 6
доски перекладины Нужно гвоздей

□ × □ = □
досок перекладины Нужно гвоздей

Ребята из снежных кирпичей строят стены, чтобы поиграть в снежки. Нарисуй, что у них должно получиться, и посчитай, сколько кирпичей понадобится каждому.

Пример



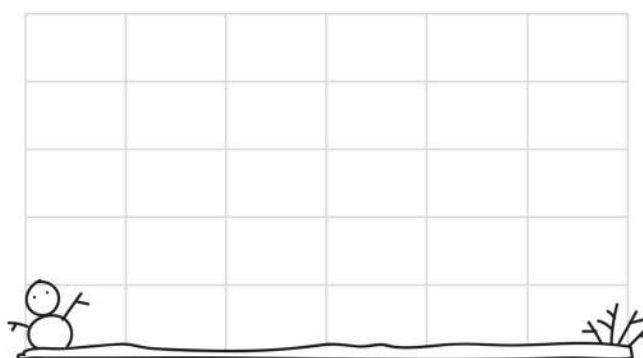
Хочу построить:
 ↑ **3 кирпича** в высоту;
 → **2 кирпича** в ширину.

Всего нужно кирпичей




↑ **4 кирпича** в высоту;
 → **2 кирпича** в ширину.

Всего нужно кирпичей



С помощью ключа-подсказки расшифруй слово и узнай ответ на вопрос.

Пример

	2	3	4
2	А	Т	С
3	Т	О	И
4	С	И	В

Кто живёт в дупле?

С	О	В	А
---	---	---	---

8 9 16 4

$2 \times 4 = 8$



	2	3	4	5
2	Т	Ш	К	А
3	Ш	Ё	М	Е
4	К	М	О	Л
5	А	Е	Л	Н

Юра копит на подарок для папы. Что он собирается ему подарить?

--	--	--	--	--	--	--

8 16 6 15 20 9 8

Дина хочет купить вкусняшку. У неё есть монеты по **2** рубля. Нарисуй, сколько монет ей нужно будет заплатить за каждое лакомство.




6 ₺

Пример



2 руб x 3 монеты = 6 руб



14 ₺




руб x монет = руб




10 ₺



руб x монет = руб



18 ₺



руб x монет = руб

Продолжайте изучать умножение играючи

